

Melkweg

Rekenen onder Instroomniveau

De laagste prijs!

Boodschappen



COLOFON

Melkweg *De laagste prijs*, 2015
Rekenen onder Instroomniveau
Taal Alfa B
Auteur Kaatje Dalderop
Foto's Merel Borgesius, Willemijn Stockmann, Kaatje Dalderop

Met dank aan Hadewijch Kapteijn en Peer Ruis voor hun feedback op het eerste concept van dit boekje.

Bij de boekjes Melkweg Rekenen onder Instroomniveau hoort een beknopte handleiding voor docenten. Deze vindt u op www.melkwegplus.nl.

Dit katern is een uitgave van Stichting Melkweg⁺.
Stichting Melkweg⁺ stelt zich ten doel bij te dragen aan de kwaliteit van het onderwijs aan laaggeletterden.
Dit katern mag vrij gebruikt worden in het onderwijs.
Commercieel gebruik is nadrukkelijk verboden.
Voor het opnemen in readers dient men zich te wenden tot Stichting Melkweg⁺.

Contact: info@melkwegplus.nl

Melkweg

De Melkweg is een straat in Leerdam.
Deze mensen wonen op de Melkweg:



Jal en Noor Aras
Jal en Noor zijn geboren in Marokko.



Lin en Wen Kam
Ze zijn in China geboren.



Jet van Beek en Kojo Owosu
Kojo is in Ghana geboren.
Jet is Nederlandse.



Rekenkaart

1	2	3	4	5	6	7	8	9	10
11	12	13	14	15	16	17	18	19	20
21	22	23	24	25	26	27	28	29	30
31	32	33	34	35	36	37	38	39	40
41	42	43	44	45	46	47	48	49	50
51	52	53	54	55	56	57	58	59	60
61	62	63	64	65	66	67	68	69	70
71	72	73	74	75	76	77	78	79	80
81	82	83	84	85	86	87	88	89	90
91	92	93	94	95	96	97	98	99	100

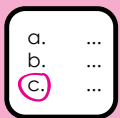
1 Naar de winkel

Eerst dit



Jal en Noor krijgen een folder.
De folder is van een winkel.
Krijgt u folders van winkels?
Leest u de folders?
Waarom wel of waarom niet?

Vragen



- 1 Noor wil wortels kopen.
Wat is waar?
a De wortels zijn duurder geworden.
b De wortels zijn goedkoper geworden.

- 2 Noor wil 1 kilo fruit kopen.
Wat is goedkoper?
a Appels
b Bananen

- 3 De koffie is deze week goedkoper.
Hoeveel goedkoper?
a 20 cent
b 50 cent

- 4 Noor koopt drie bossen wortels.
Hoeveel kost dat?
a 2 euro
b 3 euro

- 5 Noor koopt twee paprika's.
Hoeveel kost dat?
a 2 euro
b 3 euro

1
2
3
4
5
6
7
8
9
10

Noor en Jal krijgen een folder.

SUPER VOOR U




Nergens goedkoper

Wortels per bos
~~€ 2,00~~ € 1,-



Spinazie per kilo
€ 1,50



Uit Nederland

Boontjes 1 kilo
€ 3,00



Appels per kilo
€ 1,75



Altijd de laagste prijs!

Paprika rood of groen
€ 1 per stuk



Bananen per kilo
€ 1,15



Eieren doos 6 stuks
€ 1,35



Elke dag vers!

Brood wit of bruin
€ 1,45



Alleen deze week!

Koffie pak 250 gram
~~€ 2,00~~ nu € 1,50

Supermarkt SUPER voor U
Open: maandag t/m vrijdag 8.00 uur - 21.00 uur

Eiermarkt 9

4344 AH Leerdam
zaterdag 8.00 - 19.00 uur

Taken

A



Appels per kilo
€ 1,75



Bananen per kilo
€ 1,15



Peren per kilo
€ 2,-






Goedkoper of duurder?

- 1 Appels zijn _____ dan peren.
- 2 Appels zijn _____ dan bananen.
- 3 Bananen zijn _____ dan appels.
- 4 Bananen zijn _____ dan peren.
- 5 Peren zijn _____ dan appels.
- 6 Peren zijn _____ dan bananen.

B

Wat hoort bij elkaar?



1		€ 1,15
2		€ 2,-
3		€ 1,75
4		€ 2,-
5		€ 1,15

Taken

C



We zeggen: twee plus twee is vier.

Of: twee en twee is vier.

We schrijven: $2+2=4$

Lees hardop en reken uit.

$3+3 =$ _____

$3+5 =$ _____

$3+2 =$ _____

$4+1 =$ _____

$4+3 =$ _____

$7+3 =$ _____

$8+9 =$ _____

$8+5 =$ _____

Tip: Gebruik de rekenkaart!

1	2	3	4	5	6	7	8	9	10
11	12	13	14	15	16	17	18	19	20

En u?



Hebt u geld bij zich?

Hoeveel munten van 1 euro hebt u?

Hoeveel euro is dat samen?



Hoeveel munten van 50 cent hebt u?

Hoeveel euro is dat samen?



Kunt u al uw munten tellen?

Hoeveel is dat samen?

Wat vindt u?



- Ik vind de taal in deze les makkelijk.
- Ik vind de taal in deze les moeilijk.
- Ik vind rekenen in deze les makkelijk.
- Ik vind rekenen in deze les moeilijk.
- Ik vind taal belangrijk.
- Ik vind rekenen belangrijk.

2 Hier is uw bon

Eerst dit



In de winkel krijgt u een kassabon.
Is de bon belangrijk?
Wanneer wel, wanneer niet?
Wat doet u met de bon?

Vragen



- 1 Kojo is bij Super voor U.
Welk biljet geeft hij bij de kassa?



a



b



c

- 2 Hoeveel geld krijgt Kojo nu terug?
€ _____

- 3 Jet is bij KLUS.
Welk biljet geeft ze bij de kassa?



a



b



c

- 4 Hoeveel geld krijgt Jet nu terug?
€ _____

1
2
3
4
5
6
7
8
9
10

Kojo en Jet hebben boodschappen gedaan.
Dit zijn de bonnen van de winkels.

Super voor U

Eiermarkt 9
4344 AH Leerdam

Eieren, 6 stuks	1,50
Thee	1,00
Yoghurt, liter	1,00
Suiker	1,00
Kip	4,00
Chips, paprika	1,00
Bananen	2,00
Tomaten	1,00
Tulpen, rood	3,50

Totaal 16,00

Datum 15-3-2015
Bedankt en tot ziens!



KLUS

Verf	5,00
Kwast 2 stuks	5,00
Deurmat Welkom	20,00

Totaal 30,00

Datum: 16-3-2015
Ruilen binnen 30 dagen
Alleen met bon

Kijk voor gratis klustips
op www.KLUS.nl



Taken

A

Lees hardop.

lees

1	2	3	4	5	6	7	8	9	10
11	12	13	14	15	16	17	18	19	20
21	22	23	24	25	26	27	28	29	30
31	32	33	34	35	36	37	38	39	40
41	42	43	44	45	46	47	48	49	50
51	52	53	54	55	56	57	58	59	60

Tip:

Vindt u schrijven moeilijk?

Schrijf de cijfers over in een schrift.

Oefen elke week een paar keer.



B

Wat is weinig? Wat is meer?

Schrijf op.

Begin met het kleinste bedrag.



	€ 5,50
	€ 1,00
	€ 2,10
1	€ 2,50
	€ 0,75
	€ 8,00
2	€ 0,85
	€ 0,10
	€ 3,50
3	€ 5,75
	€ 5,50
	€ 5,25
4	€ 8,50
	€ 12,50
	€ 8,95

€ 1,00	€ 2,10	€ 5,50
_____	_____	_____
_____	_____	_____
_____	_____	_____
_____	_____	_____

Taken

C



We zeggen: zes en vier is tien.

Of: zes plus vier is tien.

We schrijven: $6+4=10$

Schrijf de som op en reken uit.

1
2
3
4
5
6
7
8
9
10

drie en vier 3 + 4 = _____

twee en zes _____ + _____ = _____

negen en een _____ + _____ = _____

zeven en vier _____ + _____ = _____

twaalf en twee _____ + _____ = _____

elf en acht _____ + _____ = _____

twaalf en negen _____ + _____ = _____

dertien en drie _____ + _____ = _____

dertien en acht _____ + _____ = _____

zestien en zestien _____ + _____ = _____

En u?



Let goed op in de winkel.

Hoeveel moet u betalen?

Welk geld geeft u?

Hoeveel geld krijgt u terug?

Wat vindt u?



Ik vind de taal in deze les makkelijk.

Ik vind de taal in deze les moeilijk.

Ik vind rekenen in deze les makkelijk.

Ik vind rekenen in deze les moeilijk.

Ik vind taal belangrijk.

Ik vind rekenen belangrijk.

3 Hoeveel zit er in?

Eerst dit



U bent in een winkel.
U ziet een doosje of pakje.
Wat zit erin?
Hoe weet u dat?

Vragen



- 1 Elif ziet een pak melk.
Er zit een liter melk in.
Hoeveel glazen melk is dat?
a Ongeveer vijf
b Ongeveer tien
- 2 Elif ziet ook een klein pakje melk.
Hoeveel melk zit er in dat pakje?
a Een halve liter
b Een liter
- 3 Hoeveel melk koopt Elif?
a Een halve liter
b Een liter
- 4 Elif koopt schoonmaakmiddel.
Hoeveel zit er in de fles?
a 500 ml
b 600 ml
- 5 500 ml is een halve liter.
Hoeveel ml is een liter?
a 100 ml
b 1000 ml

ml = mililiter
Je zegt: mi - li - li - ter

1
2
3
4
5
6
7
8
9
10

Elif is in de winkel.
Ze bekijkt de flessen en pakjes.

Elif kijkt naar de melk.
Ze ziet een groot pak melk.
En ook een klein pakje melk.
Elif leest de informatie op het pak.

HALFVOLLE MELK

1 liter

5 glazen (200 ml)



HALFVOLLE MELK

500 ml

In het grote pak zit een liter.
In het kleine zit een halve liter.
Elif leest: 500 ml.
Dat is een halve liter.
Elif koopt het grootste pak.

Elif kijkt naar een fles.
Er zit een schoonmaakmiddel in.
Elif leest eerst de informatie.
Dan koopt ze de fles.

**Voor het schoonmaken van
wc en badkamer**
600 ml

BUITEN BEREIK VAN KINDEREN HOUDEN



Taken

A

lees


100	honderd
200	tweehonderd
300	driehonderd
400	vierhonderd
500	vijfhonderd
600	zeshonderd
700	zevenhonderd
800	achthonderd
900	negenhonderd
1000	duizend

B



In welke fles zit het minst?
In welke fles zit het meest?
Zet in de goede volgorde,
van weinig naar veel.

- 1
- 2
- 3
- 4
- 5



Taken

C



Hoeveel kan er ongeveer in?



15 ml
200 ml
300 ml
10 liter

En u?



Bakt u wel eens brood?

Hoeveel water moet er bij het brood?

Hoe weet u dat?

Of maakt u koek?

Hoeveel melk moet er in de koek?

Hoe weet u dat?

Wat vindt u?



- Ik vind de taal in deze les makkelijk.
- Ik vind de taal in deze les moeilijk.
- Ik vind rekenen in deze les makkelijk.
- Ik vind rekenen in deze les moeilijk.
- Ik vind taal belangrijk.
- Ik vind rekenen belangrijk.

Denkwerk

A

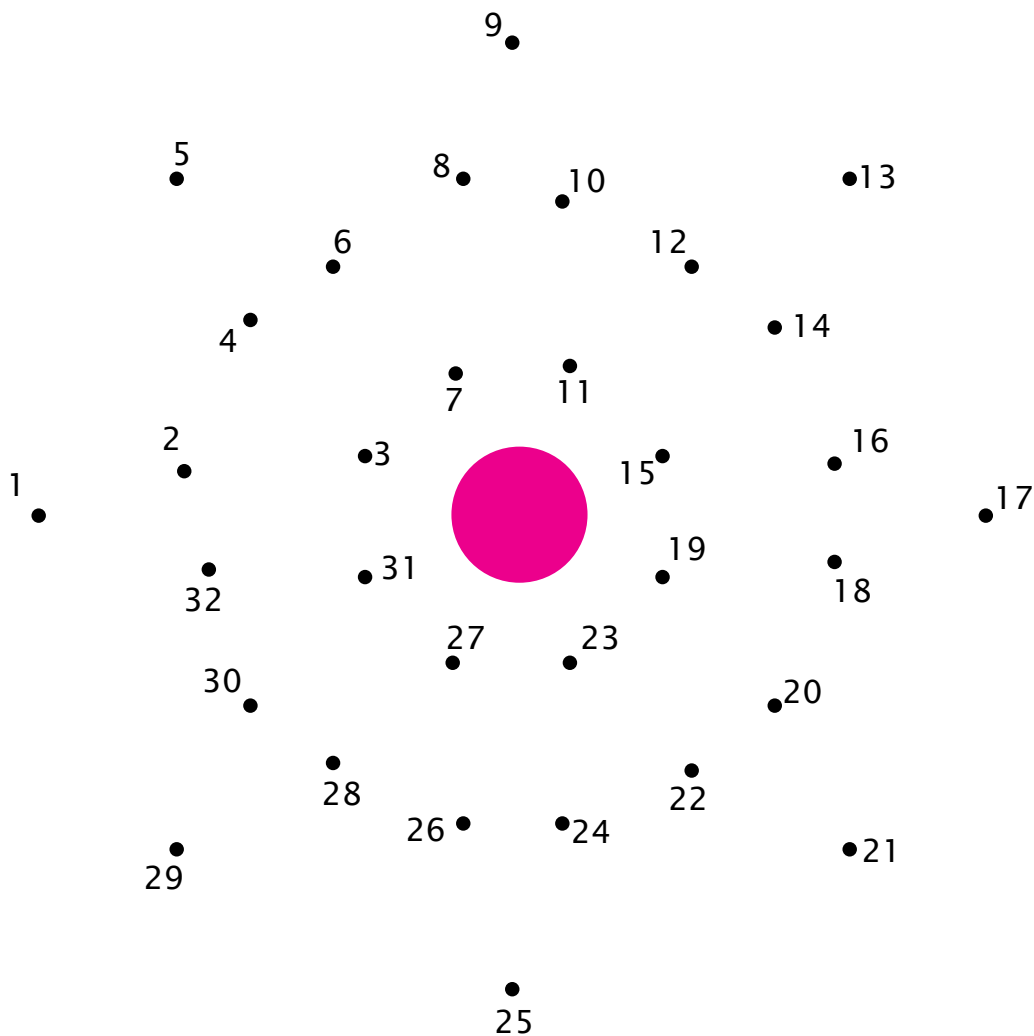
Trek een lijn.

Begin bij 1. Daarna komt 2.

En dan verder naar 3.

Ga door tot 32.

Wat ziet u nu?



B

Maak de rij af.

1



2



C

Teken in elke rij:

1 driehoek ▲ 1 rondje ● 1 ster ★ en 1 vierkant ■

Kijk van links naar rechts.

Kijk ook van boven naar beneden.

	●	★	■
■	★		
●			★
	■	▲	●

Sleutels

1 Naar de winkel		2 Hier is uw bon	
	<p>Vragen</p> <p>1 b 2 b 3 b 4 b 5 a</p>		<p>Vragen</p> <p>1 c 2 € 4,- 3 c 4 € 20,-</p>
A	<p>Taken</p> <p>1 goedkoper 2 duurder 3 goedkoper 4 goedkoper 5 duurder 6 duurder</p>	B	<p>Taken</p> <p>1 € 0,75 - € 2,50 - € 8,00 2 € 0,10 - € 0,85 - € 3,50 3 € 5,25 - € 5,50 - € 5,75 4 € 8,50 - € 8,95 - € 12,50</p>
B	<p>1 € 2,- 2 € 1,15 3 € 2,- 4 € 1,75 5 € 1,15</p>	C	<p>2+6=8 9+1=10 7+4=11 12+2=14 11+8=19 12+9=21 13+3=16 13+8=21 16+16=31</p>
C	<p>3+3=6 3+5=8 3+2=5 4+3=7 7+3=10 9+9=17</p>		

3 Hoeveel zit er in?

Vragen

- 1 a
- 2 a
- 3 b
- 4 b
- 5 b

Taken

- B**
- 1 200 ml
 - 2 500 ml
 - 3 650 ml
 - 4 800 ml
 - 5 1 liter

C



10 liter



200 ml



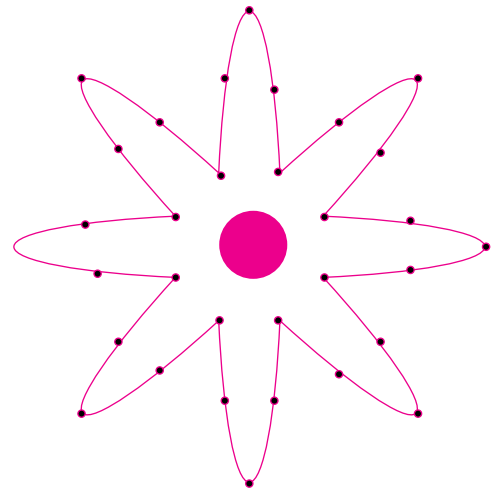
300 ml




15 ml

Denkwerk


A



B



C



De laagste prijs

Rekenen: boodschappen



Melkweg is een uitgave van Stichting Melkweg⁺
Meer Melkweg?

Kijk op www.melkwegplus.nl

melkweg⁺